



PRIMJERAK ZA UČENIKA

Republika Srbija
MINISTARSTVO PROSVJETE
ZAVOD ZA VREDNOVANJE KVALITETE
OBRAZOVANJA I ODGOJA

ZAVRŠNI ISPIT NA KRAJU OSNOVNOGA OBRAZOVANJA I ODGOJA

TEST
GEOGRAFIJA

IDENTIFIKACIJSKI OBRAZAC

IME, IME JEDNOGA RODITELJA / DRUGOGA ZAKONSKOG ZASTUPNIKA, PREZIME UČENIKA

IDENTIFIKACIJSKI BROJ UČENIKA

--	--	--	--	--	--	--	--	--	--

OSNOVNA ŠKOLA

MJESTO

OPĆINA


POTPIS DEŽURNOGA NASTAVNIKA

Rezultati se mogu pogledati na portalu **Moja srednja skola**: <https://mojasrednjaskola.gov.rs> unosom jedinstvenoga identifikacijskog broja učenika (desetoznamenkasta zaporka učenika). Zbog preuzimanja skeniranoga testa u pdf formatu, u dijelu gdje su dostupni rezultati završnoga testa, nužno je unijeti jedinstvenu zaporku testa.

Jedinstvena zaporka testa: 170620260844

Ako roditelj / drugi zakonski zastupnik ima nalog na portalu **Moj esDnevnik** ili ima nalog na **Portal za elektronsku identifikaciju eID.gov.rs**, kojim pristupa portalu **Moj esDnevnik**, tada osim uvida u rezultate završnoga testa, na portalu **Moja srednja skola** može iskoristiti i neku od sljedećih elektroničkih usluga: podnošenje prigovora na rezultate završnoga ispita, podnošenje elektroničke liste želja i podnošenje elektroničke prijave za upis u srednju školu.

UPUTA ZA RAD

- Test sadrži **20 zadataka** koje trebaš riješiti za **120 minuta**.
- Zadatke ne moraš rješavati redoslijedom kojim su zadani.
- Tijekom rada možeš koristiti grafitnu olovku i gumicu, ali ne smiješ koristiti kalkulator i mobitel.
- Konačne odgovore i postupak napiši **plavom kemijskom olovkom**.
- Odgovor koji je napisan samo grafitnom ili crnom kemijskom olovkom neće biti prihvaćen.
- U zadacima s ponuđenim odgovorima neće biti prihvaćen prepravljeni odgovor.
- U zadacima s ponuđenim odgovorima, u kojima je samo jedan točan odgovor, dobivaš 0 bodova ukoliko pored točnoga odgovora označiš i neki netočan.
- Obrati pozornost da se zadatci razlikuju po načinu na koji trebaš odgovoriti.
- Nemoj ništa upisivati na QR kodove () koji se nalaze na svakoj stranici testa.

U nekim zadacima izabrat ćeš točan odgovor tako što ćeš obojiti odgovarajući kružić. U zadacima u kojima postoji više točnih odgovora potrebno je obojiti više kružića. Vodi računa da kružić mora biti obojen jer će samo tako odgovor biti prihvaćen.

PRIMJER OBOJENIH KRUŽIĆA
U zadatku s jednim točnim odgovorom
Koji je glavni grad Republike Srbije? Oboji kružić ispred točnoga odgovora. <input type="radio"/> Novi Sad <input checked="" type="radio"/> Beograd <input type="radio"/> Niš <input type="radio"/> Kruševac
U zadatku s više točnih odgovora
Oboji kružiće ispred izraza čiji je zbroj 5. <input checked="" type="radio"/> 2 + 3 <input type="radio"/> 1 + 2 <input checked="" type="radio"/> 4 + 1 <input type="radio"/> 2 + 4 <input type="radio"/> 3 + 5

- Ako završiš ranije, predaj test i tiho izađi.

Želimo ti puno uspjeha na ispitu!

ZAVRŠNI ISPIT NA KRAJU OSNOVNOGA OBRAZOVANJA I ODGOJA
TEST
GEOGRAFIJA

1. Koji je međunarodna oznaka za istok?
Oboji kružić ispred točnog odgovora.
- ☐ N ☐ S ☐ E ☐ W
2. Koji su oblici reljefa na kartama prikazani različitim nijansama zelene boje?
Oboji kružić ispred točnog odgovora.
- ☐ planine ☐ visočja ☐ nizine ☐ pustinje
3. Koji se planet nalazi na najvećoj udaljenosti od Sunca?
Oboji kružić ispred točnog odgovora.
- ☐ Saturn ☐ Neptun ☐ Jupiter ☐ Uran
4. Kako se naziva proces kretanja Zemlje oko Sunca?
Oboji kružić ispred točnog odgovora.
- ☐ rotacija ☐ akumulacija ☐ revolucija ☐ erozija
5. Koje su najveće vodene površine na Zemlji?
Oboji kružić ispred točnog odgovora.
- ☐ oceani ☐ mora ☐ rijeke ☐ jezera
6. Kako se naziva prosječan broj stanovnika po jednom četvornom kilometru teritorija?
Oboji kružić ispred točnog odgovora.
- ☐ gustoća naseljenosti ☐ prirodni prirast
- ☐ natalitet ☐ mortalitet
7. Koji kontinent ima najveći udio mladog stanovništva?
Oboji kružić ispred točnog odgovora.
- ☐ Europa ☐ Afrika ☐ Sjeverna Amerika ☐ Australija
8. Koja djelatnost pripada tercijarnom sektoru gospodarstva?
Oboji kružić ispred točnog odgovora.
- ☐ znanost ☐ šumarstvo ☐ ugostiteljstvo ☐ građevinarstvo

9. Na kojem se kontinentu nalazi najmnogoljudnija država svijeta?
Oboji kružić ispred točnog odgovora.

☐ Sjevernoj Americi ☐ Europi ☐ Africi ☐ Aziji

10. Na kojoj se polutki čitavom svojom površinom nalazi Europa?
Oboji kružić ispred točnog odgovora.

☐ sjevernoj ☐ južnoj ☐ istočnoj ☐ zapadnoj

11. U kojem se mjesecu na sjevernoj Zemljinoj polutki javlja kratkodnevica?
Oboji kružić ispred točnog odgovora.

☐ siječnju ☐ lipnju ☐ rujnu ☐ prosincu

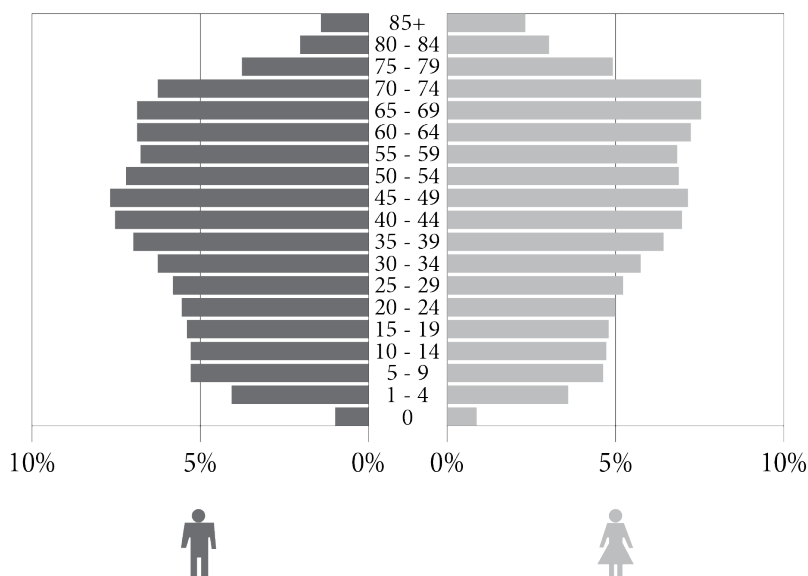
12. Oboji kružić u odgovarajućem polju tako što ćeš povezati tipove jezera s načinom postanka njihovog bazena.

	tektonska	krška	eolska
Nastaju kada voda ispuni udubljenja u vapnenačkom prostoru.	<input type="radio"/>	<input type="radio"/>	<input type="radio"/>
Nastaju kada voda ispuni dijelove kopna spuštene duž rasjeda.	<input type="radio"/>	<input type="radio"/>	<input type="radio"/>
Nalaze se u udubljenjima nastalim radom vjetra.	<input type="radio"/>	<input type="radio"/>	<input type="radio"/>

13. Koja od navedenih država nije članica Europske unije?
Oboji kružić ispred točnog odgovora.

☐ Bugarska
☐ Belgija
☐ Švicarska
☐ Španjolska

14. Koje su odlike spolno-dobne piramide Srbije koja je prikazana na slici?



Oboji kružić ispred tačnog odgovora.

- ☐ veća zastupljenost starog stanovništva u odnosu na mlado
- ☐ najveći udio stanovništva starosti 30 – 34 godina
- ☐ najveći udio mladog stanovništva
- ☐ manja zastupljenost žena u odnosu na muškarce starosti 80 – 84 godine

15. Koja je rijeka usjekla Ovčarsko-kablarску klisuru?

Oboji kružić ispred tačnog odgovora.

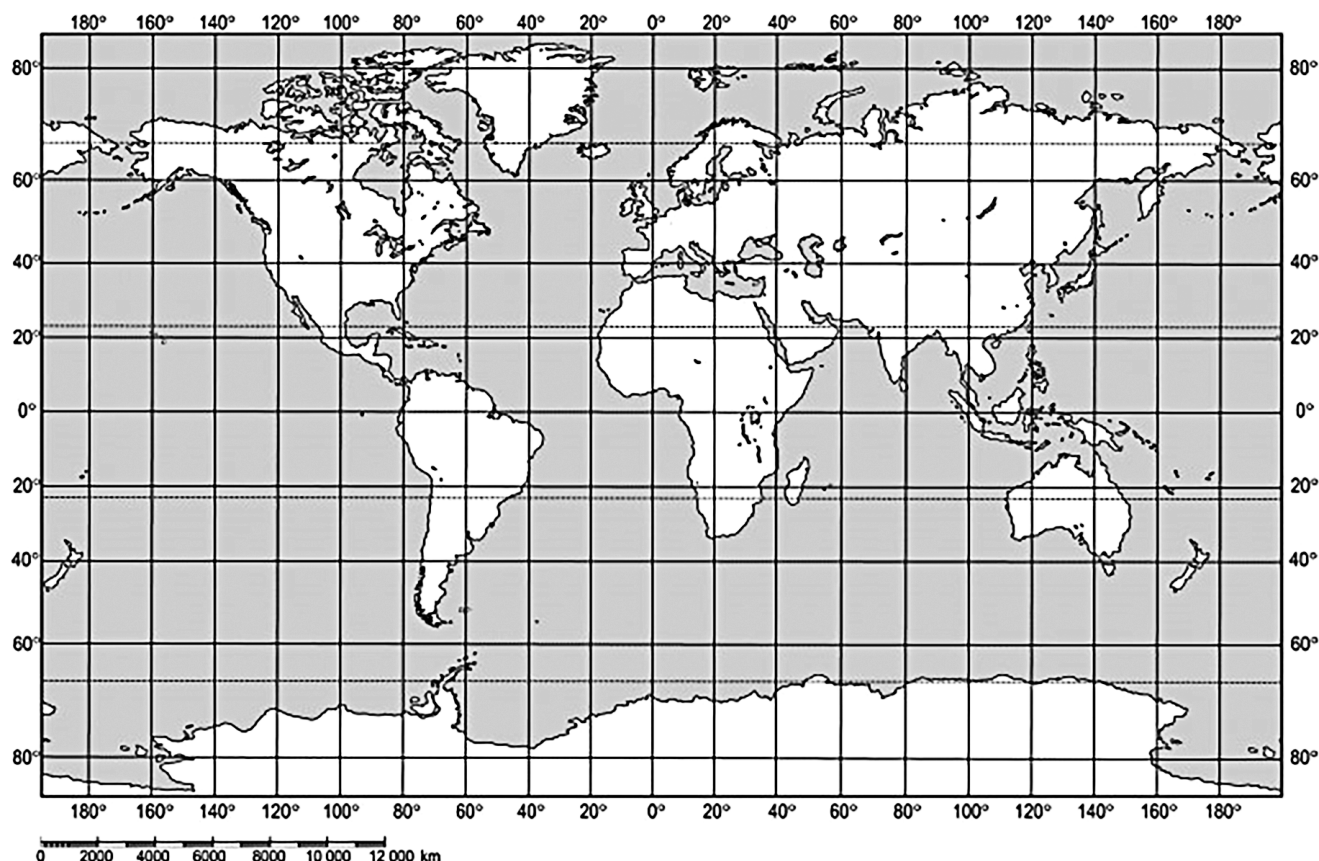
- ☐ Velika Morava
- ☐ Južna Morava
- ☐ Zapadna Morava
- ☐ Binačka Morava

16. Koji dio Azije ima najrazvedeniju obalu?

Oboji kružić ispred tačnog odgovora.

- ☐ Jugozapadna Azija
- ☐ Centralna Azija
- ☐ Južna Azija
- ☐ Jugoistočna Azija

17. U kojem se oceanu nalazi točka s kordinatama 30° SGŠ i 30° ZGD?



Oboji kružić ispred točnog odgovra.

- ☐ Sjevernom ledenom ☐ Atlantskom ☐ Indijskom ☐ Tihom

18. U posjeti si manifestaciji „Dani Jovana Cvijića” u Loznici. Do kojih najbližih toplica možeš napraviti izlet?
Oboji kružić ispred točnog odgovora.

- ☐ Vrdnika ☐ Koviljače ☐ Sokobanje ☐ Vrnjačke Banje

19. Koje države se jednim dijelom nalaze u Panonskoj nizini?
Oboji **kružiće** ispred točnih odgovora.

- ☐ Grčka ☐ Bugarska ☐ Hrvatska ☐ Albanija ☐ Slovenija

20. Najduža je rijeka Angloamerike. Spaja se s Misourijem kod grada Saint Luisa. Teče meridijanskim pravcem kroz Središnju nizinu. Pri ušću u Meksički zaljev formira veliku deltu.
Koja je ovo rijeka?
Oboji kružić ispred točnog odgovora.

- ☐ Mississippi ☐ Mackenzie ☐ Mekong ☐ Murry

PRAZNA STRANICA



Republika Srbija
MINISTARSTVO PROSVJETE
ZAVOD ZA VREDNOVANJE KVALITETE
OBRAZOVANJA I ODGOJA

PRIMJERAK ZA ŠKOLU

ZALIJEPI TI IDENTIFIKACIJSKU NALJEPNICU

ZAVRŠNI ISPIT NA KRAJU OSNOVNOGA OBRAZOVANJA I ODGOJA

TEST
GEOGRAFIJA

IDENTIFIKACIJSKI OBRAZAC

IME, IME JEDNOGA RODITELJA / DRUGOGA ZAKONSKOG ZASTUPNIKA, PREZIME UČENIKA

IDENTIFIKACIJSKI BROJ UČENIKA

--	--	--	--	--	--	--	--	--	--

OSNOVNA ŠKOLA

MJESTO

OPĆINA

POTPIS DEŽURNOGA NASTAVNIKA